



CIAO RAGAZZI!

Avete visto cosa ho
io in salotto?

VI ASPETTO A CASA

MIA QUANDO TUTTO

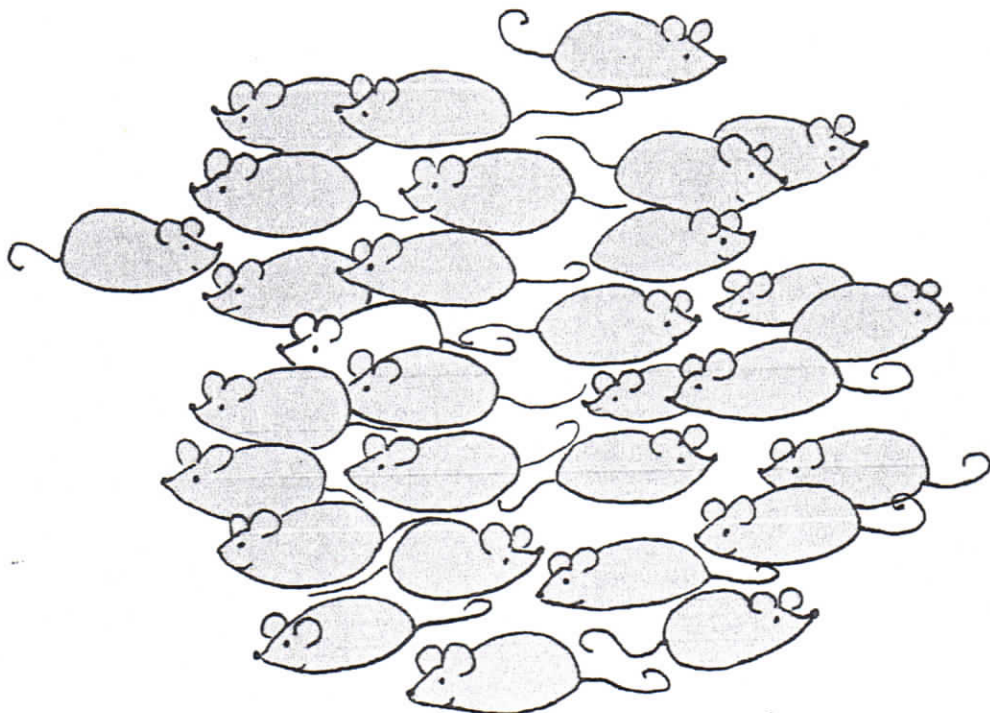
È FINITO

PER ORA BUON


LAVORO!

I MIEI GATTI HANNO FATTO

SCAPPARE I TOPI : QUANTI SONO?



Ora disegna i vassoi che ti occorrono, poi metti 8 paste per ogni vassoio. (Attenzione, un vassoio è già disegnato).



COMPLETA IL PROBLEMA :

IN UNA PASTICCERIA CI SONO

PASTICCINI.

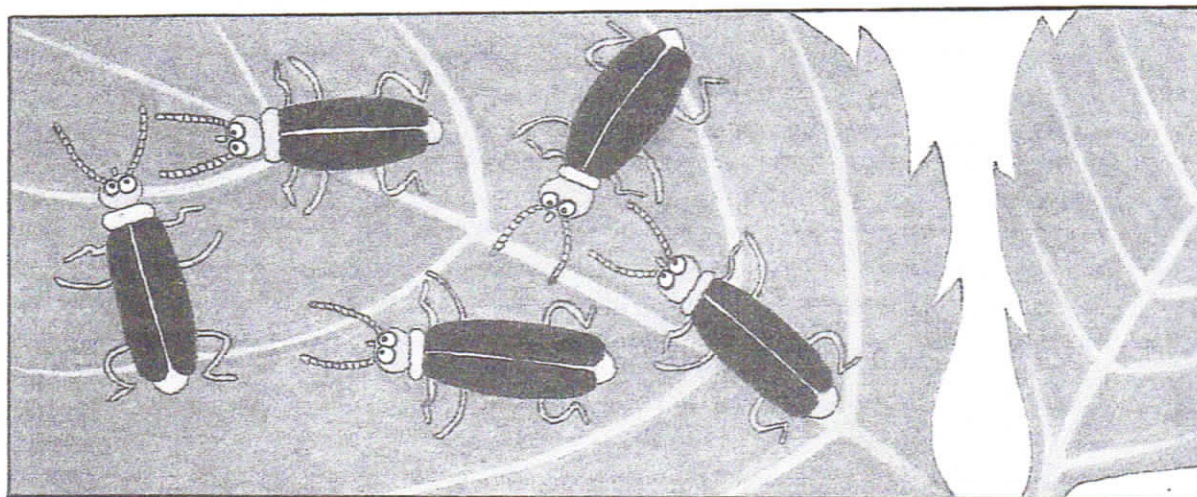
NE METTONO IN OGNI

VASSOIO.

QUANTI ?

OPERAZIONE :

RISPOSTA :



PROBLEMA. Ci sono 5 insetti con 6 zampe per ogni insetto: in tutto, quante sono le zampe?

QUANTE
IN TUTTO ?

OPERAZIONE :

RISPOSTA :


PROBLEMA. Se ogni insetto ha 6 zampe e gli insetti sono 5, in tutto quante sono le zampe?

QUANTE
IN TUTTO ?

OPERAZIONE :

RISPOSTA :

CHE DIFFERENZA C'E' FRA
I DUE PROBLEMI ?



guarda il disegno e inventa
tu due problemi diversi.

CHE NUMERO È ? (segna con X)

- 4 DECINE e 7 UNITÀ

45 74 47

- 3 DECINE e 11 UNITÀ

31 41 311

- 18 UNITÀ e 2 DECINE

82 218 38

- COLORA BENE
- SCRIVI IL NOME DELLA FRUTTA
O VERDURA CHE VEDI :



- Ora capovolgi il foglio. Che cosa vedi?